

PETUNJUK KHUSUS

Pilihlah salah satu jawaban yang paling tepat, dengan memberi tanda silang (X) pada huruf a, b, c, atau d pada lembar jawaban yang disediakan.

Contoh:

Batas sebelah selatan provinsi Nusa Tenggara Barat adalah

- a. Samudera Hindia
- b. Selat Lombok
- c. Selat Alas
- d. Laut Bali

Jawaban : b c d

1.



Provinsi Sulawesi Tenggara pada peta di atas ditunjukkan oleh nomor


- a. 4
 - b. 3
 - c. 2
 - d. 1
2. Kerajaan Hindu yang terletak di Jawa Barat adalah
- a. Majapahit
 - b. Sriwijaya
 - c. Tarumanegara
 - d. Singosari
3. Dua provinsi yang memiliki wilayah pegunungan paling luas adalah
- a. Jawa Barat dan DKI Jakarta
 - b. Jawa Tengah dan Nusa Tenggara Timur
 - c. Jawa Barat dan Bali
 - d. DKI Jakarta dan DI. Yogyakarta

4. Dua candi yang merupakan peninggalan kebudayaan Hindu yaitu
 - a. Pawon dan Borobudur
 - b. Mendut dan Borobudur
 - c. Prambanan dan Tikus
 - d. Loro Jonggrang dan Borobudur

 5. Kerajaan Islam pertama di Sulawesi adalah....
 - a. Gowa-Tallo
 - b. Tidore
 - c. Ternate
 - d. Makassar

 6. Salah satu wilayah Indonesia yang dikuasai Portugis pada tahun 1511 adalah
 - a. Nusa Tenggara
 - b. Bali
 - c. Maluku
 - d. Timor Timur

 7. Badan usaha merupakan alat produksi untuk menghasilkan
 - a. barang dan jasa
 - b. benda dan makanan
 - c. material dan tenaga
 - d. tenaga dan jasa

 8. Nama tokoh pada gambar di samping ini adalah
 - a. Pattimura
 - b. Si Singamangaraja
 - c. Pangeran Antasari
 - d. Sultan Iskandar Muda
- 
9. Pimpinan perang Padri di Sumatera Barat dalam melawan Belanda adalah
 - a. Pangeran Diponegoro
 - b. Tuanku Imam Bonjol
 - c. Panglima Polim
 - d. Teuku Umar

 10. Daerah yang termasuk wilayah Waktu Indonesia Bagian Barat (WIB) adalah
 - a. Bengkulu
 - b. Palangkaraya
 - c. Makassar
 - d. Jayapura

 11. Provinsi yang memiliki wilayah pegunungan paling luas adalah
 - a. Kalimantan Tengah
 - b. Jawa Timur
 - c. Sulawesi Selatan
 - d. Lampung

12. Sumpah Pemuda bagi bangsa Indonesia berperanan sebagai
 - a. penggerak semangat para pejuang
 - b. pelopor kemajuan wanita Indonesia
 - c. pelopor bagi pendidikan bangsa
 - d. pemersatu bangsa Indonesia

13. Dampak positif lahirnya pergerakan nasional adalah
 - a. diikrarkannya Sumpah Pemuda
 - b. munculnya organisasi kepemudaan
 - c. timbulnya persatuan dan kesatuan
 - d. dikumandangkannya lagu Indonesia Raya

14. Organisasi pergerakan nasional yang menuntut Indonesia berparlemen adalah
 - a. Gerindo
 - b. Parindra
 - c. Gapi
 - d. Budi Utomo

15. Manfaat dari jumlah penduduk yang besar adalah
 - a. mudah menyatukan pendapat
 - b. kuat untuk mempertahankan diri
 - c. mempunyai cukup banyak tokoh yang baik
 - d. tersedia sumber daya manusia

16. Provinsi di Indonesia yang terpadat penduduknya adalah
 - a. Bali
 - b. Jawa Timur
 - c. Jawa Barat
 - d. DKI Jakarta

17. Perpindahan penduduk yang daerah asalnya tertimpa bencana alam disebut
 - a. transmigrasi umum
 - b. transmigrasi khusus
 - c. transmigrasi sektoral
 - d. transmigrasi spontan

18. Persebaran penduduk secara geografis adalah persebaran penduduk menurut
 - a. administrasi negara
 - b. wilayah negara
 - c. keadaan alam
 - d. wilayah tertentu

19. Salah satu faktor penyebab kedatangan tentara Jepang ke Indonesia yaitu
 - a. Jepang ingin bekerja sama dengan Belanda
 - b. Belanda menjajah Indonesia terlalu lama
 - c. Indonesia kaya hasil pertanian dan perkebunan
 - d. Indonesia kaya sumber alam

20. Perlawanan rakyat Tasikmalaya terhadap Jepang dipimpin oleh
 - a. Abdul Jalil
 - b. Abdul Hamid
 - c. Supriadi
 - d. KH. Zaenal Mustafa

21. Tujuan dibentuknya BPUPKI adalah
 - a. membebaskan semua tawanan perang
 - b. menghindari serangan tentara Sekutu
 - c. mengikat perjanjian dengan Jepang
 - d. mempersiapkan kemerdekaan Indonesia

22. Yang termasuk perusahaan angkutan milik negara yaitu
 - a. Perumka
 - b. Perum Jasa Raharja
 - c. Perum Husada Bakti
 - d. Mandala

23. Koran desa merupakan salah satu usaha pemerintah dalam menyebarkan informasi melalui
 - a. media elektronika
 - b. media gambar
 - c. media cetak
 - d. media iklan

24. Hasil hutan yang banyak mendatangkan devisa negara adalah
 - a. getah perca
 - b. damar
 - c. gambir
 - d. rotan

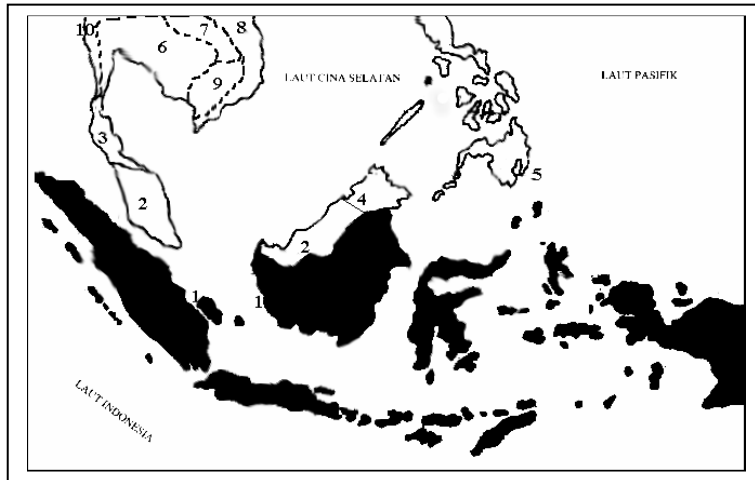
25. Tindakan para pejuang Indonesia dalam memanfaatkan masa kosong setelah Jepang menyerah kepada Sekutu adalah
 - a. mendata sisa tentara Jepang yang ada
 - b. mempersiapkan kemerdekaan secara matang
 - c. menyusun benteng pertahanan rakyat
 - d. mengamankan daerah Rengasdengklok

26. Salah satu anggota perumus Teks Proklamasi adalah
 - a. Sayuti Melik
 - b. Ahmad Soebardjo
 - c. KH. Dewantara
 - d. Laksamana Maeda

27. Pertempuran mempertahankan kemerdekaan yang terjadi pada 23 Maret 1946 dikenal sebagai peristiwa
 - a. Palagan Ambarawa
 - b. Medan Area
 - c. Bandung Lautan Api
 - d. Perobekan bendera

28. Salah satu akibat agresi militer Belanda bagi Indonesia adalah
- ekonomi rakyat Indonesia semakin sulit
 - Indonesia mendapat kecaman dunia
 - Irian Barat terpisah dari Indonesia
 - wilayah Indonesia semakin sempit
29. Yang termasuk tujuan terbentuknya Perserikatan Bangsa-Bangsa yaitu
- menggagalkan perang dunia kedua
 - menjamin keamanan internasional
 - mencegah dunia dicekam kecemasan
 - membatasi persahabatan antarbangsa
30. Tiga negara yang mempunyai hak veto adalah
- Amerika Serikat, Rusia, dan Inggris
 - Amerika Serikat, Prancis, dan Mesir
 - Rusia, Inggris, dan Swedia
 - Prancis, Cina, dan Myanmar
31. Organisasi terbesar yang anggotanya terdiri dari negara-negara di dunia adalah
- OPEC
 - UNICEF
 - UNESCO
 - PBB
32. Batas sebelah barat negara Indonesia adalah
- Samudera Hindia
 - Samudera Pasifik
 - Selat Sunda
 - Papua Nugini
33. Indonesia sangat penting bagi jalur perdagangan dunia karena
- Indonesia adalah negara tujuan ekspor
 - berada di kawasan Asia Pasifik yang strategis
 - wilayah perairan mendukung jalur perdagangan
 - terletak pada posisi silang antara dua benua dan samudera
34. Pembagian waktu di Indonesia didasarkan pada
- panjang wilayah menurut garis bujur
 - letak astronomis suatu daerah
 - lebar wilayah menurut garis lintang
 - jarak negara dari pangkal waktu internasional
35. Letak astronomis Indonesia adalah
- 6° LU – 11° LS dan 95° BT – 141° BT
 - 6° LS – 11° LU dan 95° BT – 141° BT
 - 6° LU – 11° LU dan 95° BT – 141° BB
 - 6° LS – 11° LS dan 95° BT – 141° BT

36. Pada peta di bawah, letak negara Thailand ditunjukkan oleh nomor



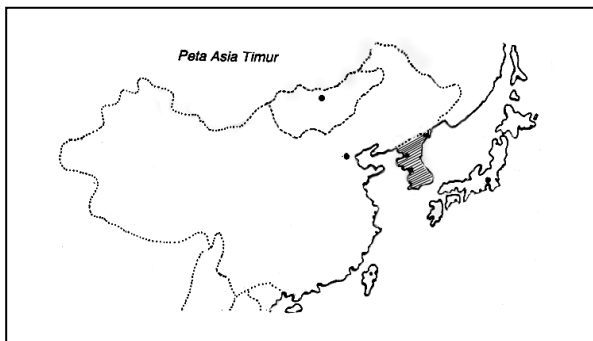
- a. 4
- b. 5
- c. 6
- d. 7

37. Komoditi ekspor Indonesia ke negara Cina adalah

- a. sayur mayur dan buah-buahan
- b. wool, susu, dan daging
- c. motor dan pesawat terbang
- d. pupuk dan karet

38. Perhatikan peta di samping!

Bagian yang diarsir adalah wilayah



- a. Taiwan
- b. Korea
- c. Hong Kong
- d. Jepang

39. Bentuk kerjasama antara Indonesia dengan Jepang dalam bidang ekonomi yaitu

- a. menjadi negara pemberi pinjaman dana
- b. mendukung persiapan pasar bebas Indonesia
- c. membantu kelancaran ekspor impor Indonesia
- d. menghilangkan bea masuk impor Indonesia

40. Yang termasuk hasil Konferensi Asia Afrika yaitu

- a. menghormati kedaulatan wilayah setiap bangsa
- b. ikut campur tangan terhadap urusan negara lain
- c. menyelesaikan setiap persoalan dengan peperangan
- d. melakukan kerjasama hanya antarnegara di Asia dan Afrika

41. Usaha yang dilakukan pemerintah dalam merebut Irian Barat adalah
 - a. mengadakan operasi militer terhadap pemerintah Belanda
 - b. menyelenggarakan serangan terbuka terhadap kapal-kapal Belanda
 - c. melakukan perundingan untuk membentuk komisi gabungan di Irian
 - d. melakukan diplomasi dan pembentukan Komando Mandala

42. Lautan yang berbatasan dengan Benua Afrika adalah
 - a. Lautan Atlantik dan Lautan Hindia
 - b. Lautan Pasifik dan Lautan Hindia
 - c. Lautan Teduh dan Lautan Pasifik
 - d. Laut Es Utara dan Laut Merah

43. Laut yang membatasi Benua Afrika dengan Benua Asia adalah
 - a. Lautan Atlantik
 - b. Lautan Hindia
 - c. Laut Merah
 - d. Laut Tengah

44. Sebelah utara Benua Eropa berbatasan dengan
 - a. Benua Asia
 - b. Samudra Arktik
 - c. Samudra Atlantik
 - d. Laut Tengah

45. Bentuk kerjasama antara Indonesia dengan Prancis di bidang kebudayaan yaitu
 - a. pertukaran misi kesenian
 - b. penelitian bioteknologi bersama
 - c. pertukaran duta dan konsul
 - d. pelatihan calon penerbang

46. Negara Eropa Barat yang sebagian wilayahnya merupakan laut yang dikeringkan adalah
 - a. Belgia
 - b. Belanda
 - c. Inggris
 - d. Prancis

47. Pegunungan di Eropa yang terkenal di dunia adalah
 - a. Alpen
 - b. Aconcagua
 - c. Kilimanjaro
 - d. Mount Everest

48. Penduduk asli Amerika adalah
 - a. Bangsa Indian
 - b. Bangsa Negro
 - c. Bangsa Yahudi
 - d. Bangsa Inggris

49. Letak benua Amerika membujur dari utara hingga ke selatan menyebabkan kawasan tersebut mempunyai
- iklim subtropis dan dingin
 - iklim dingin dan tropis
 - iklim hujan dan kemarau
 - seluruh tipe iklim
50. Sungai Amazone terdapat di negara
- Amerika Serikat
 - Brazilia
 - Venezuela
 - Cuba